

# 角度と面積

名前 \_\_\_\_\_

ドラッグラインショベルは鉱山などで働く大きなマシンです。図を見てそれぞれの面積を調べてください。

以下の式を使って、1-4の面積を計算してください。

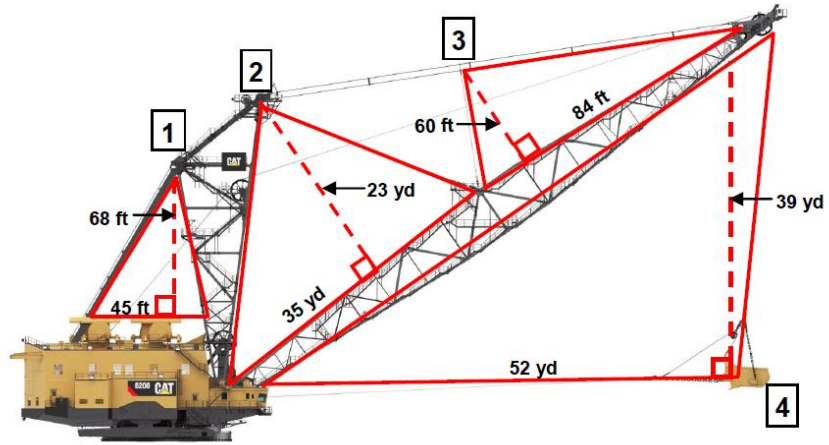
$$A = 1/2 \times b \times h$$

Triangle 1 \_\_\_\_\_ ft<sup>2</sup>

Triangle 2 \_\_\_\_\_ yd<sup>2</sup>

Triangle 3 \_\_\_\_\_ ft<sup>2</sup>

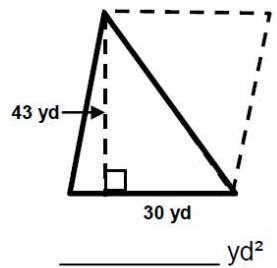
Triangle 4 \_\_\_\_\_ yd<sup>2</sup>



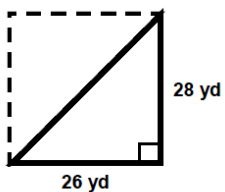
以下の式を使って、1-4の面積を計算してください。

$$A = 1/2 \times b \times h$$

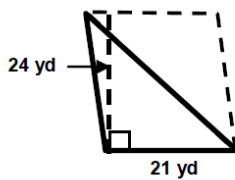
1.



2.



3.



4.

