






はたらく車をかぞえよう

なまえ _____

どのCATマシンが好きですか？友だちや家族にも聞いて○をかいてください。さいごに○の数を数えてください。

好きなマシンをえらんで○をかきましょう		○の数
 797F Mining Truck		
 CT660 Vocational Truck		
 318E Hydraulic Excavator		
 966K Wheel Loader		
 420F IT Backhoe Loader		

○の数で棒グラフをつくろう！

一番○が多かったマシンはどれですか？下に棒グラフを作ってみましょう。

